


Les vacances de Lilya et Tom



Réalise les défis pour suivre les aventures de Lilya et Tom.



Défi 1

Écris cinq sports que les enfants pourront faire.

1. _____

2. _____

3. _____

4. _____

5. _____



Défi 2

Écris une liste de ce que les enfants pourront visiter et faire comme activités.

1. _____

2. _____

3. _____

4. _____

5. _____



Défi 3

Calcule le prix des vacances pour une famille puis remplis le chèque que la famille devra donner pour payer.

Recherche :

Le prix des vacances est de : _____ euros.

Chèque à compléter :

BANQUE HEURISTIK	
Payez contre ce chèque _____	€uros
_____	<input type="text"/>
	Fait à _____
	Le _____
Banque Heuristik Rue du Triangle, 31415 Centre	Signature :



Défi 4

Dans chaque phrase, colorie le verbe en rouge, le sujet en bleu et les compléments en jaune.

1. Nous avons reçu votre règlement.
2. Dans les prochains jours, vous recevrez une brochure de la région.
3. Nous restons à votre disposition.



Défi 5

Réécris la carte postale en langage courant.

Mon cher Tom,

Je suis en vacances en Bretagne, _____



Défi 6

Associe chaque solide à son propriétaire en lui attribuant la bonne lettre et écris le nom du solide.

	Lettre	Nom du solide
Tom		
Lilya		
Papa		
Maman		



Défi 7

Écris deux phrases négatives et deux phrases exclamatives.

Phrases négatives :

1. _____

2. _____

Phrases exclamatives :

1. _____

2. _____



Défi 8

Invente un haïku sur le modèle de celui de Lilya.
A chaque ligne, ajoute un mot de plus.



Défi 9

Écris le texte sans faire de faute.

Signé Com.



Défi 10

Classe les mots en gras du texte dans le tableau.

Classe de mots	Mots du texte
Déterminants	
Noms communs	
Noms propres	
Adjectifs	
Verbes	
Pronoms personnels	



Défi 11

Calcule le montant total des achats de Lilya et Tom, puis dessine la monnaie que le vendeur leur rendra.

Lilya

OBJETS	MONTANT
1 stylo décoré	6 €
1 livre	8 €
1 porte-clés	3 €
TOTAL	

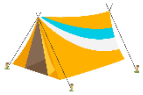
Tom

OBJETS	MONTANT
1 peluche	9 €
1 lot de cartes postales	2 €
1 puzzle	3 €
TOTAL	

Recherche et réponse :

.....

Dessin :



Défi 12

Calcule la distance totale qu'ils ont parcourue.

Il y a 1 km et 200 m pour aller du camping à la boulangerie.

Le trajet est trois fois plus long que l'aller-retour entre le camping et la boulangerie.

Recherche :

La distance totale est de : _____.



Défi 13

Calcule le total. Maman paie avec un billet de 50€.
Combien va lui rendre le vendeur ?

Recherche :



FROMAGERIE MARTIN

Qté	Désignation	Total
1	Comté	7 €
1	Reblochon	11 €
1	Emmental	15 €
TOTAL		...

MERCI DE VOTRE VISITE ET A BIENTOT

Le total est de : _____ €

Le vendeur va lui rendre : _____ €



Défi 14

Dans le dialogue, colorie les paroles de Tom en orange
et celles de Louise en bleu.

« Salut Louise ! Comment vas-tu ?

- Salut Tom ! Je suis super contente de te parler ! J'ai plein de trucs à te raconter !
Tu sais quoi ? Je suis allée faire du bateau et du kayak, c'était cool !
- Bah moi, j'ai vu le Mont Blanc ! Trop classe ! Je vais pouvoir raconter ça à la
maîtresse à la rentrée ! Et aujourd'hui, on est allé dans une fromagerie. C'était
génial mais ça sentait fort !
- Eh bien nous, on est allé dans un parc où il n'y avait que des loups. J'ai eu un peu
la trouille ! Mon frère disait qu'il allait me laisser pour leur goûter ! Bon, faut que
je te laisse : j'ai un cours à la piscine.
- OK, salut Louise, et bonnes vacances ! »



Défi 15

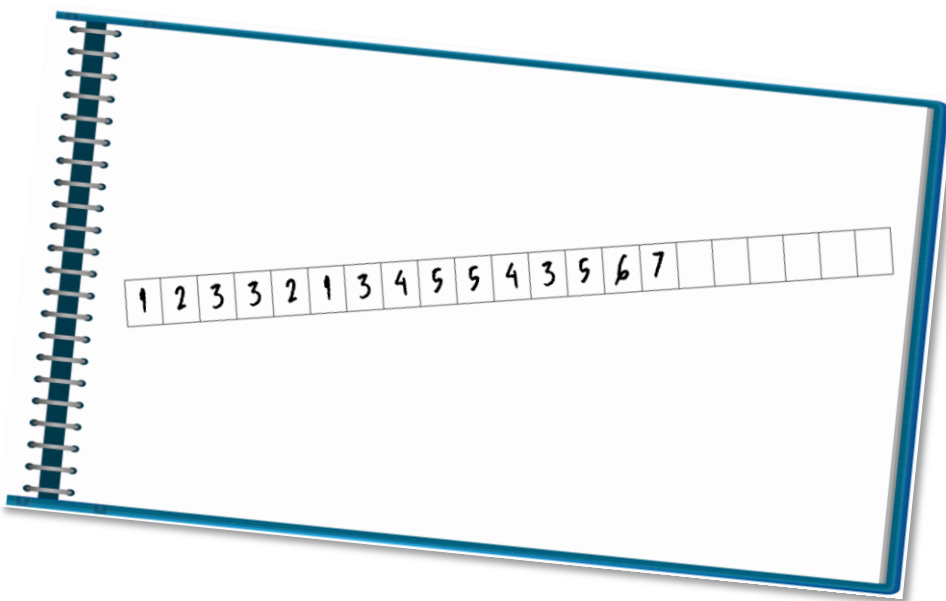
Complète le tableau en écrivant un mot de la catégorie demandée et commençant par la lettre indiquée.

	Nom	Verbe	Adjectif	Animal
L				
M				
R				



Défi 16

Résous l'énigme.



Recherche :



Bonus

Mots mêlés des vacances

S	O	L	E	I	L	R	V	O	S	E
B	E	N	V	A	C	A	N	C	E	S
L	R	A	N	D	O	N	N	E	E	A
E	B	D	Q	E	I	G	W	B	I	M
C	É	N	I	G	M	E	Z	A	M	U
T	S	G	D	L	S	I	N	R	X	S
U	F	I	C	B	R	B	J	B	O	E
R	B	J	O	U	E	R	F	E	R	R
E	H	P	K	M	V	N	P	C	B	D
S	F	R	O	M	A	G	E	U	C	A
C	A	M	P	E	R	L	M	E	H	Q

**10 mots à retrouver
(horizontalement ou
verticalement) :**

amuser

barbecue

camper

énigme

fromage

jouer

lecture

randonnée

soleil

vacances